

4 国民所得と経済成長 (教科書 p.128 ~ 133)

演習 *Top 10 Richest Countries in the World 2021*

問 10位から1位の国名を答え、最後の問に答えなさい。

■ 10位:

イタリア半島にある人口3万5千人のミニ国家。ランクインしたのは、外国の企業や富裕層の資本流入を目的に、税金を無税または極端に低くしているタックスヘイブン政策をとっているから。

■ 9位:

アジアの南東地域にある非常に豊かな国。この国の豊かさは豊富な原油と天然ガスという天然資源と石油の輸出が大きい。また、2011年には公的債務が0%な国のひとつ。

■ 8位:

世界最大規模の経済大国。長く世界経済を引っ張ってきた。アップルやアマゾン、グーグルなど、常に世界に通用するサービスを提供してきた企業があり、世界中に巨大な消費者市場を持つ。

■ 7位:

北欧にあるこの国には、豊富な原油、鉱物や漁業資源があり、さらに、税金が高くても手厚い保護を受けることができる社会福祉国家なところが豊かさの秘訣。世界で最も安全な国としても有名。

■ 6位:

この国は昔大砂漠だった。しかし国内に多くの油田が発見されてから突如、急成長を遂げた。ドバイやシャールジャといった都市の発展による観光客の増加も大きな要因。

■ 5位:

アルプスのふもとにある永世中立国。豊かな国に選ばれたのは、同国の非常に効率的な金融システムのおかげ。さらに首都は、世界保健機関や国際労働機関などの本拠地となっている。

■ 4位:

かつて西欧最貧国のひとつだったが、90年代以降EU統合とアメリカを中心とした投資により急成長。20世紀末の経済成長率は年10%前後。領土をめぐる英国対立抗争を繰り返してきた。

■ 3位:

ペルシャ湾に面する中東の国。所得税や消費税がなく医療費をはじめ電気代や教育費が無料。税金なしでも豊かさを維持できるのは豊富な天然資源を持っているから。天然ガス埋蔵量は世界第3位。

■ 2位:

マーライオンで有名。東京23区と同じ大きさ。豊かさの秘訣はコンパクトな国土のため経済活動をコントロールしやすいから？ 厳しいマナーや法律で美しい街並みが保たれ観光客にも嬉しい。

■ 1位:

フランスやベルギー、ドイツに囲まれたヨーロッパの小国。神奈川県とほぼ同じ大きさ。古くから世界規模の鉄鋼大国であったこと、自由な金融政策を行ってきたことも現在の豊かさにつながる。

問 このランキングは何を基準にしているのだろうか？

.....

解説

(ア) 国の豊かさをはかる……マクロ経済学

1) _____ の発想 = 「²⁾ _____」にまかせれば、うまくいく

↓ 現実には、³⁾ _____

4) _____

→政府の役割を考えるには⁵⁾ _____ が必要だ = ⁶⁾ _____ の発想

(イ) フローとストック

豊かさの二つの基準

7) _____ (⁸⁾ _____) : 金や財・サービスの⁹⁾ _____ が多い

例 個人 = ¹⁰⁾ _____ が多い 国 = 生産額が多い (¹¹⁾ _____)

12) _____ (¹³⁾ _____) : 金や財・サービスの¹⁴⁾ _____ が多い

例 個人 = ¹⁵⁾ _____ がある 国 = 多くの資産がある (¹⁶⁾ _____)

(ウ) GNP から GDP へ

◆ GDP と GNP

① ¹⁷⁾ _____ (¹⁸⁾ _____) : ¹⁹⁾ _____

② ²⁰⁾ _____ (²¹⁾ _____) : ²²⁾ _____

→ ²³⁾ _____ = ²⁴⁾ _____ - 海外からの²⁵⁾ _____ (海外からの所得 - 海外への所得)

③ ²⁶⁾ _____

◆ 国民所得の相互関連

① ²⁷⁾ _____ (国内総生産) = 国内での生産総額 - 中間生産物の額

② ²⁸⁾ _____ (国民総生産) = GDP + 海外からの純所得

③ ²⁹⁾ _____ (³⁰⁾ _____) = GNP - 減価償却費 (固定資本減耗)

④ ³¹⁾ _____ (³²⁾ _____) = NNP - (間接税 - 補助金)

◆ ³³⁾ _____ : ³⁴⁾ _____

³⁵⁾ _____ 国民所得 第一次産業 + 第二次産業 + 第三次産業

³⁶⁾ _____ 国民所得 ³⁷⁾ _____ + 財産所得 (利子, 配当など) + ³⁸⁾ _____

³⁹⁾ _____ 国民所得 ⁴⁰⁾ _____ (民間 + 政府) + ⁴¹⁾ _____ (民間 + 政府) + 経常海外余剰

※ ⁴²⁾ _____ (⁴³⁾ _____) は ⁴⁴⁾ _____

演習

下の「よくある意見」には経済学の発想から見れば根本的な問題点がある。説明しなさい。

東京オリンピックの会場整備等に3兆も使うなら、貧困世帯への一時金にまわした方がいい。

(工) 経済成長

⁴⁵⁾ _____ : ⁴⁶⁾ _____。通常 ⁴⁷⁾ _____ の拡大率で示す。

① ⁴⁹⁾ _____ (%) = $\frac{\text{⁴⁸⁾ _____}}{\text{⁵¹⁾ _____}} \times 100 \dots \text{⁵⁰⁾ _____}$

② ⁵³⁾ _____ (%) = $\frac{\text{今年の⁵²⁾ _____ - 昨年の実質 GDP}}{\text{昨年の実質 GDP}} \times 100 \dots \text{⁵⁴⁾ _____}$

※実質 GDP = ⁵⁵⁾ _____

演習 昨年度の GDP が 120 兆円、今年度の GDP が 160 兆円だったとする。物価上昇率が 15 % だとする。名目、実質経済成長率の両方を求めよ。(小数点第 2 位以下は四捨五入)

名目経済成長率 = _____ % 実質経済成長率 = _____ %

【解説】

- ・ 名目
- ・ 実質

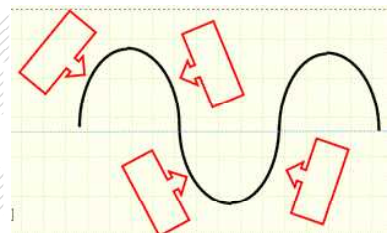
(才) 景気循環

◆ 景気変動の 4 局面…

⁵⁶⁾ _____

◆ 景気循環の種類

⁵⁷⁾ _____	⁵⁸⁾ _____ 年の周期,	⁵⁹⁾ _____ が要因
⁶⁰⁾ _____	⁶¹⁾ _____ 年前後の周期,	⁶²⁾ _____ が要因
クズネッツの波	15 年程度の周期,	建設投資が要因
⁶³⁾ _____	⁶⁴⁾ _____ 年の周期,	⁶⁵⁾ _____ が要因



◆ 物価：様々な商品の価格を平均的にとらえたもの 消費者物価など

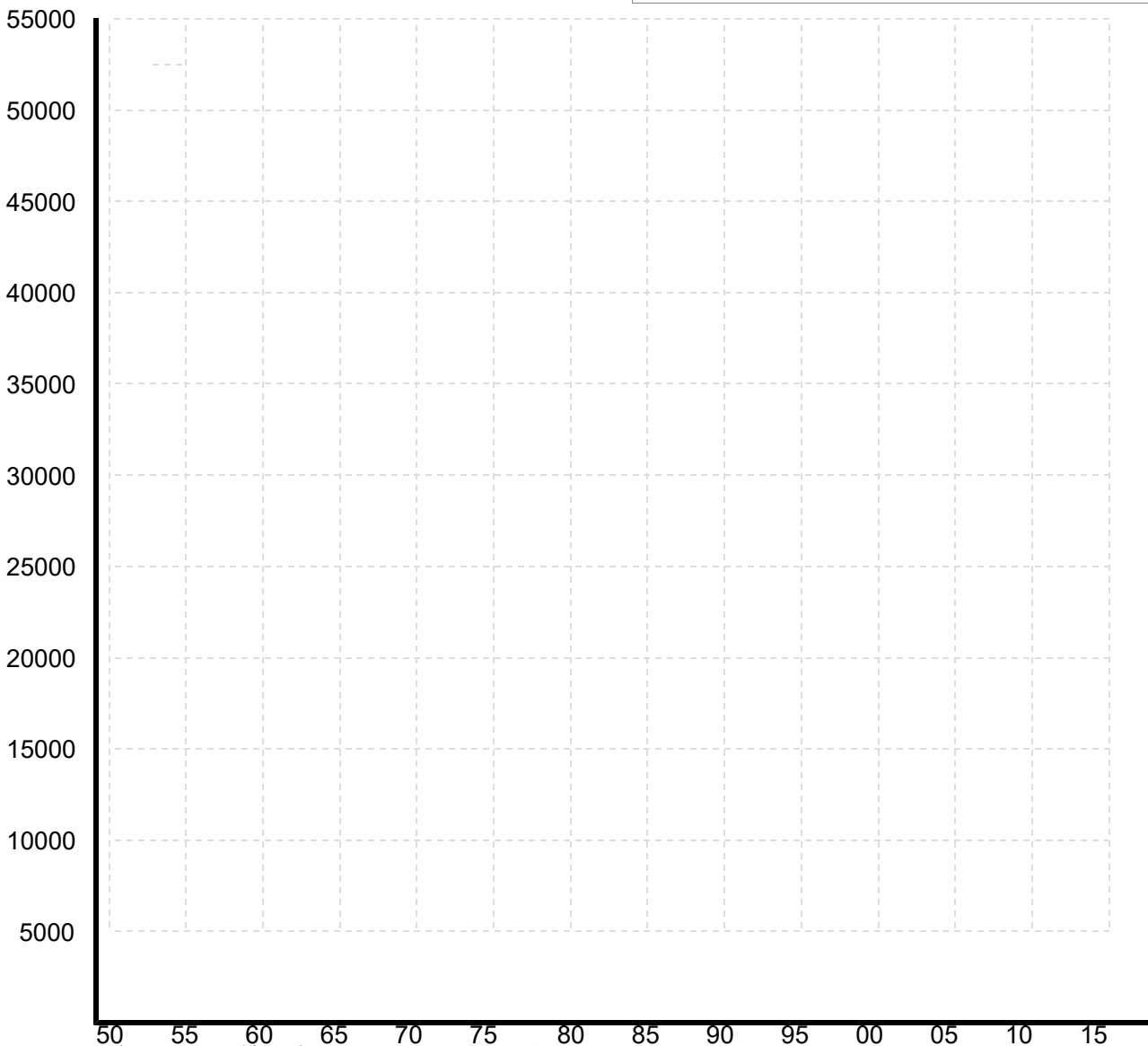
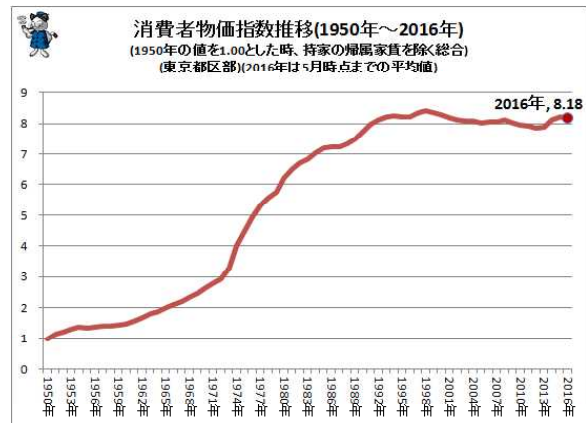
- ① ⁶⁶⁾ _____ : ⁶⁷⁾ _____ …一般的に ⁶⁸⁾ _____ に見られる
 原因… ⁶⁹⁾ _____ ・インフレ, ⁷⁰⁾ _____ ・インフレ
 状態… ⁷¹⁾ _____ ・インフレ, ⁷²⁾ _____ ・インフレ, ⁷³⁾ _____ ・インフレ
- ② ⁷⁴⁾ _____ : ⁷⁵⁾ _____ …一般的に ⁷⁶⁾ _____ に見られる
- ③ ⁷⁷⁾ _____ : ⁷⁸⁾ _____ … 1970 年代に顕著

4. 国民所得と経済成長

演習

表は、戦後日本の GDP の推移である。表をグラフ化し、下の問に答えよ。

年度	名目 (億)	実質
1950	39,470	160
1955	85,980	479,390
1960	166,810	735,040
1965	337,650	1,133,620
1970	752,290	1,904,480
1975	1,523,620	2,373,300
1980	2,483,760	2,873,660
1985	3,303,970	3,550,960
1990	4,516,830	4,536,040
1995	5,045,940	4,590,580
2000	5,108,350	4,767,230
2005	5,053,490	5,071,580
2010	4,792,050	5,109,920
2015	5,005,467	5,291,921



問1 日本の景気は戦後良くなったのか、悪くなったのか。

問2 日本の経済規模は発展したのか？ 数値を明示して説明せよ。

5 金融の仕組みと働き (教科書 p.134 ~ 136)

(ア) 金融システム

◆ 1) _____ : 2) _____

◆日本の金融機関

3) _____	4) _____
民間金融機関	5) _____, 6) _____, 7) _____ など
8) _____	日本政策投資銀行, 日本政策金融公庫など

◆銀行の固有業務 (銀行法で定められている)

9) _____	預金者の資産を管理・保管する業務
10) _____	_____ 業務
11) _____	振込や送金で債権や債務の決済を行う業務

→普通銀行は固有業務のみ。信託銀行は財産管理・不動産売買なども出来る。

◆金融市場 : 12) _____

13) _____	14) _____ を融通する場合
15) _____	1年未満の資金を融通する場合

→金利が決定される…一般的に長期金融市場より短期金融市場の方が 16) _____

◆ 17) _____

金融機関, 金融市場, 金融取引のための 18) _____ などの全体を形づくっている

(イ) 間接金融と直接金融

◆金融の分類

19) _____ : 企業や政府が 20) _____

21) _____ : 22) _____

→かつては 23) _____ が中心だったが, 近年は 24) _____ の比重が高まっている

◆直接金融の市場

25) _____ : 26) _____, 社債や公債 (公社債) の売買市場の総称

◆間接金融の市場

27) _____ : 28) _____

→コール市場における金利が 29) _____

演習 400億の男——Mr.T (ブルネイで婚活するよりこっちがオトク！)

今年 4 月に定年退職した T 先生は、老後のため、退職金 2000 万円を地元の K 銀行に定期預金した。

問 K 銀行を含む市中銀行は、この預金を元手にいくら金を貸せるか？



解説 信用創造の意義と危険性

(ウ) 信用創造

30) _____ : 31) _____
 → 「計算式： 32) _____」

33) _____ : 金融機関が、預金引き落としや決済を保障するため、 34) _____
 _____ (預金準備率) 以上を 35) _____ に無利子で預け入れること。

◆教科書の例では……

1000 万円の新規預金に対して預金準備率 10% である時の預金合計

〈預金〉	〈支払準備金〉	〈貸出金〉
36) _____ 万円 (37) _____)	1000 万円 × 38) _____ = 39) _____ 万円	40) _____ 万円
41) _____ 万円	900 万円 × 0.1 = 42) _____ 万円	→ 実際には預金口座へ 43) _____ 万円
44) _____ 万円	800 万円 × 0.1 = 81 万円	729 万円
……		

45) _____ = 本源的預金 ÷ 支払準備率 (小数に直す)
 = 46) _____ ÷ 47) _____
 = 48) _____ ÷ 49) _____
 = 50) _____ ÷ 51) _____ = 52) _____ 万円

53) _____ 計 (54) _____) = 預金計 - 本源的預金
 = 55) _____
 = 56) _____ 万円

演習 ある銀行に 1 億円が預金されたものとし、預金準備率が 5% のとき、信用創造により増加する貨幣供給量はいくらか。

- (1) 6 億円 (2) 12 億円 (3) 19 億円 (4) 20 億円

5 金融の仕組みと働き

◆現実の日銀の預金準備率

(単位:%)

			'86/7/1実施	'91/10/16実施
指定勘定区分額 (c)	定期性預金 (譲渡性預金を含む)	2兆5,000億円超	1.75	1.2
		1兆2,000億円超 2兆5,000億円以下	1.375	0.9
		5,000億円超 1兆2,000億円以下	0.125	0.05
		500億円超 5,000億円以下	0.125	0.05
	その他の預金	2兆5,000億円超	2.5	1.3
		1兆2,000億円超 2兆5,000億円以下	2.5	1.3
		5,000億円超 1兆2,000億円以下	1.875	0.8
		500億円超 5,000億円以下	0.25	0.1

(c) 指定勘定区分額
500億円以下の金額に
対しては

57)

◆T先生の退職金 2000万円を、現行の預金準備率 0.05%に当てはめて信用創造すると……

預金計 =

(工) 信用創造のメリットとデメリット

◆なぜ銀行が信用創造を行えるのか？

58) _____ (現金通貨に縛られない数字上の取引が可能)

～銀行と消費者金融との違い：消費者金融は預金を扱えないので 59) _____。

◆信用創造の利点

銀行にとっての利点： 60) _____

借り手にとっての利点： 61) _____ ← 62) _____ から

国・国民にとっての利点： 少ない資金で 63) _____ が増える

→ 64) _____ (65) _____)。

◆信用創造の欠点

66) _____

→ 間接金融がうまくいくための前提

・ 67) _____ (借りたい人) が十分に多くあること

・ 68) _____ こと = 69) _____ こと

・ 70) _____ こと

【返済が滞ると、巨額の 71) _____ が生じ、銀行の 72) _____ は低下する】

→ もし、銀行が信用を失うと……

・ 73) _____

～現在の金融システムは 74) _____

演習 金細工師ゴールドスミスのお話

次の文章を読み、後の問に答えなさい。

昔々、かつて現在のような貨幣制度のなかった時代は様々なものがお金として使われていました。例えば貝殻、きれいな石、羽根などなど。それは人々が「十分に価値がある」と認めるものでなければいけません。金と銀はとても柔らかく、簡単に加工できるものとして魅力的で、地域の人々の中から金属の専門家が誕生しました。



そのなかでゴールドスミス（金細工師）はコインを鑄造する事によって取引を簡単に出来る様になりました。このコインは標準化されその価値が保証されるようになりました。

その金^{きん}を守る為にゴールドスミスは金庫を作りました。

やがて町の仲間がやってきて、彼らのコインや貴重品を守る為の場所を貸してくれる様に頼む様になります。しばらくして彼は金庫の中を棚ごとに貸出し、金庫貸しとしてちょっとした収入も得る様になりました。

何年か過ぎゴールドスミスはずる賢い観察をしました。預金者は彼らの金^{きん}を実際に動かす事はめったにない。そして彼らがまとめて一度に金を取りに来る事もない。そこでゴールドスミスは「金の預り証に決済機能を与え、それがあたかもお金そのものであるかの様に街に流通してゆきました。

一方、金庫で成功を収めたゴールドスミスは、金に（①）をつけて貸し出すというもうひとつのビジネスも行っていました。彼の便利な紙のお金が受け入れられる事によって、借り手は金属に代わって紙のお金でローンを頼む様になりました。

やがてこの事業もどんどん拡大していき、彼はついにある考えを思いつきました。彼はほとんどの預金者が、金を実際に動かす事がないのを知っていました。彼は考えたのです。「自分の持っている金に加えて、預金者達の金を担保に紙幣を貸す事が出来るのではないかと」と。ローンが返済される限り預金者は何も気付かず、何も悪い事はない。

こうしてゴールドスミスは大金持ちとなりました。同じ町の仲間よりも裕福になってそれを誇示するようになりました。街の住人達は、彼が預金者の金を使いこんでいるのではないかと疑いを持つ様になりました。預金者達は集まって、もしゴールドスミスが彼の財産についてはっきりしないならば金を引き出すぞと脅しました。

期待とは裏腹にこれはゴールドスミスにとって痛手にはなりません。ペテンはうまくいったのです。なぜならローンが返済されれば貸したお金は元に戻るし、金庫にあるお金よりも大きな金額を貸すわけではないので、預金者のお金はちゃんと金庫の中にあつたからです。そこで預金者たちはゴールドスミスに（②）によって、分け前を支払う様に要求しました。

これが銀行業の始まりです。しかしこれは現在の銀行が行っているやり方ではありません。銀行家ゴールドスミスの悪知恵はこの程度では終わらなかったのです。

銀行家ゴールドスミスは預金者に分け与えられた金利の後に残った収入だけでは満足しませんでした。この時代銀行家に対する需要は世界的に拡大しヨーロッパでは急成長を遂げました。しかしなが

ら彼のローンは金庫にある預金者の預金量に制限されていました。

そこで、彼は大胆なアイデアを思いつきました。彼の金庫にある中身の事は彼以外誰も知らない。「金がなくても紙幣を貸し出す事が出来るのではないか？」紙幣の持ち主が同時に金の返還を要求する事はない。誰も気づくものはいないだろう。この新しい計画は、とてもうまく行きました。そして、銀行家は実際にはありもしない金の金利によって莫大な富を築く事になったのです。しかし、これは（ ③ ）不安定なシステムでした。

このころには銀行家が提供する大量のお金がヨーロッパの産業拡大には不可欠なものとなっていました。国は、銀行家のやっていた行為を知っていましたがその力が必要だったのです。国は銀行家のこの不安定なシステムが崩壊することを恐れたのです。

それを防ぐためには法律を使うのが一番簡単な方法でした。こうして お金を創る方法が法律化され規制化されました。銀行家は無から創り出す金の量の規制に合意したのです。その限界は、金庫にある金銀の実際の量より何倍も大きなものでした。その通常の割合というのは実際の金が1の量に対し虚構のお金は（ ④ ）でした。中央銀行は地方銀行を金の緊急注入をもって支え、それがまた取り付け騒ぎの際に調整として使われました。一度にたくさんの取り付けが起きない限り銀行の信用貸しは、バブルがはじけたりシステムダウンする心配もなくなったのです。

問1 下線部 a)、ゴールドスミスが発明したものは何ですか。文中から漢字二字でぬきだしなさい。

問2 空欄①②に入る漢字2字（同じ語が入ります）を入れなさい。

問3 下線部 b)で発案されたシステムを何と呼びますか。漢字四字で答えなさい。

問4 空欄③に最適な語句を自分で考えて(直前のプリントがヒント)、1行で書きなさい。

問5 下線部 c)、日本ではどのような規制をしていますか。1行で書きなさい。

問6 下線部 c)の規制率を10%とした場合、空欄④に入る数値を書きなさい。

問7 本文を参考にして、下の空欄A～Cに適語を入れなさい。

私たちがお金として考えている紙幣や貨幣はもちろん(A)や(B)によって製造されていますが、実際には、世の中のお金のほとんどは(C)と呼ばれる民間の(D)機関で毎日とてつもない金額が創造されているのです。

A =

B =

C =

D =

(最後に) Money as debt は日本語字幕つきで Youtube で視聴できます。絶対のオススメです。 <https://www.youtube.com/watch?v=PnVBwrXA990>

組 番 氏名

6 日本銀行の役割と金融の自由化 (教科書 p.137 ~ 140) ^{6. 中央銀行の役割と金融の自由化}

演習 JKが銀行をつぶす!?!——豊川信用金庫事件

この事件はT師が高3の時に起こった実話です。下の問に答えなさい。

1973年12月8日(土)、登校中の国鉄飯田線車内で、豊川信用金庫に就職が決まった女子高校生Aを、友人B・Cが「信用金庫は危ないよ」とからかう。この発言は同信金の経営状態を指したのではなく、「()」の意味で、それすら冗談であったがAは真に受けた。その夜、Aから「信用金庫は危ないのか?」と尋ねられた親戚Dは、信用金庫を豊川信金だと判断して同信金本店の近くに住む親戚Eに「豊川信金は危ないのか?」と電話で問い合わせた。

9日(日)、Eは美容院経営者のFに、「豊川信金は危ないらしい」と話した。

10日(月)、Fが親戚Gにこの話をした際、居合わせたクリーニング業Hの耳に入り、彼の妻Iに伝わる。

11日(火)、小坂井町の主婦らの間で豊川信金の噂が話題となり、通りがかりの住民の耳にも入る。この頃、噂は「豊川信金は危ない」と断定調になる。

12日(水)、街の至るところで豊川信金の噂の話題が持ちきりとなる。

13日(木)、Hの店で電話を借りたJが「豊川信金から120万円おろせ」と電話の相手に指示した。Jは噂を全く知らず、ただ仕事の支払いで金を下ろす指示をただけだったが、これを聞いたIは同信金が倒産するので預金をおろそうとしていると勘違いし、慌てて同信金から180万円をおろした。その後、H・Iは知人にこの話を喧伝、これを聞いたアマチュア無線愛好家が、無線を用いて噂を広範囲に広める。この後、同信金窓口で殺到した預金者59人により約5000万円が引き出される。同信金小坂井支店に客を運んだタクシー運転手の証言によると、昼頃に乗せた客は「同信金が危ないらしい」、14:30の客は「危ない」、16:30頃の客は「潰れる」、夜の客は「明日はもうあそこのシャッターは上がるまい」と噂は誇張されていく。

14日(金)、事態の收拾のため、同信金が出した声明が曲解され、パニックに拍車がかかる。その後、「職員の使い込みが原因」、「理事長が自殺」という二次デマが発生し、事態は深刻化する。信金側の依頼を受けたマスコミ各社は、14日の夕方から15日朝にかけて、デマであることを報道し騒動の沈静化を図る(新聞の見出し:朝日新聞「5000人、デマに踊る」、読売新聞「デマに踊らされ信金、取り付け騒ぎ」、毎日新聞「デマにつられて走る」、など)。事態を受けた日本銀行は、考査局長が記者会見を行い、同信用金庫の経営について「問題ない」と発言するとともに、混乱を避けるため日銀名古屋支店を通じて現金手当てを行ったことを明らかにした。また預金者へのアピールとして、本店の大金庫前には日銀から輸送された現金が窓口からも見えるように高さ1m、幅5mに渡って山積みされた。

15日(土)、自殺と噂された理事長自らが窓口対応に立ったことも奏功し、事態は沈静化に向かう。

(Wikipedia)

問1 空欄に最適な内容を1行で書け。

問2 この事件が拡大した原因を1行で要約せよ。

問3 もし事件が沈静化しなかったら豊川信金はどうなったと思うか。1行で書け。取り付けで破綻

問4 銀行がつぶれたら預金はどうなるのか。1行で書け。

問5 日本銀行がこの事件で果たした役割を1行で要約せよ。

解説 日本銀行は何をしているか？

(ア) 中央銀行

◆ ¹⁾ _____ : ²⁾ _____
 例 米 = ³⁾ _____ (Federal Reserve Bank) 英 = イングランド銀行
 日本の中央銀行 = ⁴⁾ _____ ... ⁵⁾ _____ によって運営される特殊法人

◆ 日本銀行の役割

① ⁶⁾ _____ ... ⁷⁾ _____ する
 ② ⁸⁾ _____ ... ⁹⁾ _____
 → 金融危機などの際の「最後の貸し手」
 ③ ¹⁰⁾ _____ ... ¹¹⁾ _____, 国債事務, 外国為替事務などを行う

(イ) 金融政策

◆ ¹²⁾ _____ : ¹³⁾ _____



◆ 日銀の金融政策

a ¹⁴⁾ _____ : 日銀が金融機関に ¹⁵⁾ _____
 _____ → 1991 年廃

止

b 伝統的な金融政策

① ¹⁶⁾ _____ (オペレーション)
 : ¹⁷⁾ _____
 18) _____ → _____ : _____
 19) _____ → _____ : _____

② ²⁰⁾ _____ (金利政策 : ²¹⁾ _____) ← 現在は行われていない
 景気抑制 → ²²⁾ _____ / 景気刺激 → ²³⁾ _____

③ ²⁴⁾ _____ (²⁵⁾ _____) ← 現在は行われていない
 景気抑制 → ²⁶⁾ _____ / 景気刺激 → ²⁷⁾ _____

c 1994 年 ²⁸⁾ _____ により、公定歩合は 2006 年 8 月、「基準割引率および基準貸付利率」
 に名称変更され、²⁹⁾ _____ を示すことになった。

d ³⁰⁾ _____

6 日本銀行の役割と金融の自由化

◆金融政策の現在

①日本銀行は³¹⁾ _____

→³²⁾ _____ で金融政策を決定

②最近の日本銀行の政策

●金利

→³³⁾ _____ : 公定歩合操作が機能しなくなったので、

³⁴⁾ _____

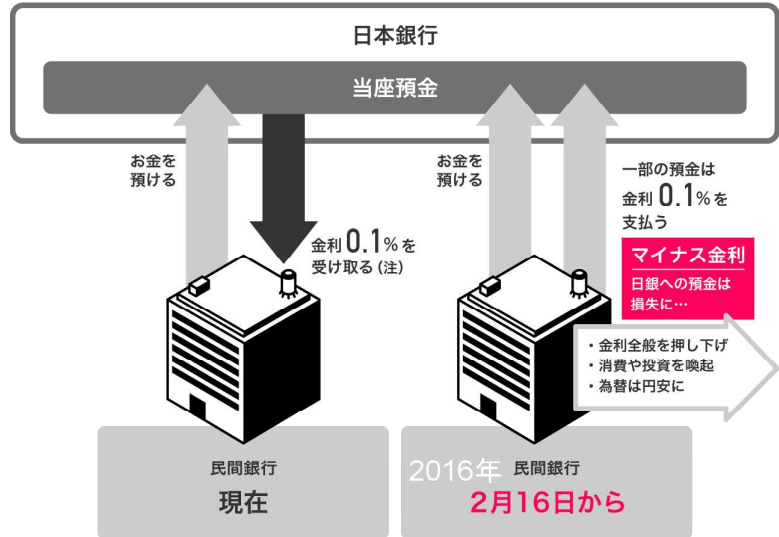
●通貨量→

³⁵⁾ _____ : 日本銀行のもつ市中銀行の当座預金残高を増やして

³⁶⁾ _____

●物価 →³⁷⁾ _____ :

景気向上のため、³⁸⁾ _____ を定める。



(ウ) 金融の自由化・国際化

◆要因...³⁹⁾ _____

→⁴⁰⁾ _____ や金融市場の閉鎖性などに対する批判

⇒⁴¹⁾ _____ ⇒⁴²⁾ _____

◆金融の自由化

①⁴³⁾ _____ :⁴⁴⁾ _____

② 金融業務の自由化: 銀行, 信託, 証券, 保険の相互参入

③⁴⁵⁾ _____ …金融自由化構想の実施

④外国為替業務の自由化

⑤⁴⁶⁾ _____ →銀行破綻の際、⁴⁷⁾ _____

◆不良債権の滞積...⁴⁸⁾ _____

⇒破綻する金融機関の出現⇒金融システム不安

◆銀行の⁴⁹⁾ _____ …

⁵⁰⁾ _____

⁵¹⁾ _____ (国際業務⁵²⁾ _____ 以上, 国内⁵³⁾ _____ 以上) のクリアが銀行の課題に

⇒⁵⁴⁾ _____ ⇒⁵⁵⁾ _____

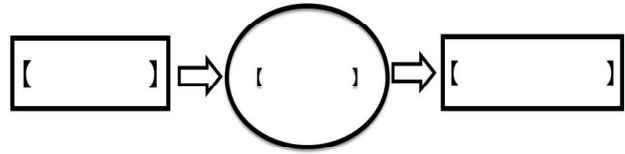
政府の対応...⁵⁶⁾ _____ などの政策実施

7 財政の役割と租税 (教科書 p.141 ~ 146)

(ア) 政府の経済的役割

政府は、¹⁾ _____

→政府も企業・家計とならぶ²⁾ _____



◆資源配分の調整…

³⁾ _____

政府の経済活動

公共財 { ⁴⁾ _____ : ⁶⁾ _____ など
⁷⁾ _____ : ⁸⁾ _____ など
⁹⁾ _____ : ¹¹⁾ _____

◆ ¹²⁾ _____ ... ¹³⁾ _____

¹⁴⁾ _____

¹⁵⁾ _____

◆ ¹⁶⁾ _____ ... ¹⁷⁾ _____

①裁量的〔補整的〕財政政策 (¹⁸⁾ _____)

不況時→ ¹⁹⁾ _____ → ²⁰⁾ _____

不況時には ²¹⁾ _____ (²²⁾ _____)

好況時→ ²³⁾ _____ → ²⁴⁾ _____

② ²⁵⁾ _____ (_____)

←累進課税制度, 失業給付制度 (雇用保険) などによる ²⁶⁾ _____

不況時→ 税収は ²⁷⁾ _____ 保険費は ²⁸⁾ _____ →通貨量 ²⁹⁾ _____

好況時→ 税収は ³⁰⁾ _____ 保険費は ³¹⁾ _____ →通貨量 ³²⁾ _____

③ ³³⁾ _____ ... ³⁴⁾ _____ と ³⁵⁾ _____ などを融合して行う

(イ) 財政制度

³⁶⁾ _____ : ³⁷⁾ _____

→国の財政を処理する権限は国会の議決にもとづく = ³⁸⁾ _____

³⁹⁾ _____ : 会計年度に先だってたてられる歳入と歳出の計画

① ⁴⁰⁾ _____ …国の基本的な活動のための収支を管理する

歳入: 租税や公債金など / 歳出: 社会保障費・地方財政費・国債費など

② ⁴¹⁾ _____ …特定の事業を行うために設けられる

③ ⁴²⁾ _____ ... ⁴³⁾ _____

→規模の大きさから ⁴⁴⁾ _____ とよばれた

演習 国税庁が製作したビデオ『ご案内します アナザーワールドへ』を見て、下の問に答えなさい。

問1 国民の三大義務とは？

- ・教育の義務
- ・勤労の義務
- ・ _____



問2 消費税の欠点と利点について、まとめなさい。

利点 _____

欠点 _____

問3 所得税についての台詞の空欄を埋めなさい。

_____ になっていて、
 稼ぎのいい奴はたくさん払う、稼ぎのない奴はそれなりになっていう。

問4 仮定の街中に青少年や高齢者が多く見られる理由は？

青少年 _____

高齢者 _____

問5 スウェーデンの福祉政策が充実している原因は？（これは事実です）

問6 このビデオで、国税庁が国民に訴えたかったことは？

(解説)

解説

(ウ) 租税と公債

◆ ⁴⁵⁾ _____ (直接税/間接税…租税収入に占める両者の割合 = ⁴⁶⁾ _____)

⁴⁷⁾ _____ … ⁴⁸⁾ _____
 (国) ⁴⁹⁾ _____ など, (地方) ⁵⁰⁾ _____ など

⁵¹⁾ _____ … ⁵²⁾ _____
 (国) ⁵³⁾ _____ など, (地方) 地方消費税・入湯税など

① ⁵⁴⁾ _____ …租税の賦課・徴収は議会で決めた ⁵⁵⁾ _____ によらなければならない

② ⁵⁶⁾ _____ …給与所得者, 自営業者, 農業従事者の捕捉率を象徴

◆公債 (⁵⁷⁾ _____) : 国や地方公共団体が発行する ⁵⁸⁾ _____

(1) 国債

① ⁵⁹⁾ _____ : ⁶⁰⁾ _____
 → ⁶¹⁾ _____ : ⁶²⁾ _____ →実際は ⁶³⁾ _____

② ⁶⁴⁾ _____ : 公共事業などに使われる

③ ⁶⁵⁾ _____ : 既存の国債返済のために発行

(2) 国債発行原則… ⁶⁶⁾ _____ を防止する目的

① ⁶⁷⁾ _____, 建設国債の発行は認める (財政法第 4 条)

② ⁶⁸⁾ _____ (財政法第 5 条) … ⁶⁹⁾ _____ の禁止

(工) 財政危機

① ⁷⁰⁾ _____ … 1965 年に一度発行, 75 年より急激に増加

② ⁷¹⁾ _____

…地方を合わせると ⁷²⁾ _____ (2018 年末見込み)

→ 財政危機の状態

→ 国債の元利払いを除く歳出と公債を除いた歳入との

⁷³⁾ _____ (基礎的財政収支) の均衡が望ましい

③ ⁷⁴⁾ _____ …一般会計の ⁷⁵⁾ _____ %程度

→ ⁷⁶⁾ _____

慶應義塾大学教授 井手英策

日本の財政赤字は GDP 比で 200 %を超えました。借金は国民一人当たり 800 万円に迫り、一般会計予算の四分の一は債務の返済に向けられています。近い将来、財政破綻するのではないか、そのような不安の声も聞かれるところです。今日は、私たちの国に巨額の財政赤字が形成された背景について、考えてみたいと思います。

財政赤字の原因を解き明かすには、まず、ふたつの誤解を解かねばなりません。

ひとつめは、日本が大きな政府だという誤解です。政府の財政規模を対 GDP 比で見ると、日本の財政は先進国でもっとも小さな部類に属しています。実際の政府規模を見てみましょう。人口千人あたりの公務員数、労働力人口に占める公務員の割合を見ても、答えは同じです。要するに、日本は、先進国きっての小さな政府なのです。

ふたつ目は税金が重いという誤解です。日本は、アメリカと並んで、先進国のなかでもっとも租税負担率の低い国です。消費税率が 10 %になってもこの事実は変わりません。財政再建といえば、まず、ムダの削減と私たちは考えます。ですが、財政赤字の原因は、大き過ぎる支出にではなく、少な過ぎる税収にあります。なぜ日本人は増税に同意しないのか。この問いに答えなければ、財政赤字が生み出された理由も、解決策も、明らかにはなりません。

ひとつのヒントが「痛税感」という概念です。ある国際調査によると、日本人は、税負担が突出して高い北欧諸国の人びとよりも痛税感が大きいことが分かっています。では、なぜ私たちは、軽い税を重たく感じ、抵抗感を覚えるのでしょうか。

まず、政府が提供するサービスについて考えてみます。高度成長期以降、日本は、所得税の減税と公共事業によって利益を分配してきました。ところが、90 年代の後半には、財政事情が悪化し、減税が難しくなりました。また、同じ頃、都市部では、道路や橋、上下水道といった社会インフラが飽和し、公共事業不要論が強まりました。従来型の利益分配が難しくなったのです。

一方、少子高齢化や女性の社会進出が進み、90 年代には、養老・介護、育児・保育といった新しい財政需要が次々と生まれました。先般の*ベビーシッターをめぐる悲しい事件も同根の問題です。以前の利益分配がストップし、新しいニーズが満たされないまま、財政再建への増税が求められる。税の負担感が大きくなるのも当然です。

痛税感を生む第二の理由、それは、日本経済の地盤沈下です。バブル崩壊後、経済の長期停滞に苦しんだ政府は、減税を繰り返し、莫大な赤字を生み出しました。平成 7 年には財政危機宣言が出され、2000 年代に入ると、明確な緊縮財政路線へと舵が切られていきました。

ところが、ちょうどこの頃から、雇用の非正規化が進み、世帯あたりの所得が慢性的に低下し始めます。税負担が一定でも、所得が減り続ければ、当然、負担感は強まります。負担の不均衡も生じました。富裕層の税負担は明確に削減され、国際競争力の低下を嫌って、企業減税も繰り返されました。減りゆく所得。負担の不公平。これらの要因が納税者の負担感を強めたのです。

第三の理由として、危機意識の薄さをあげましょう。2001 年 3 月、日銀は、量的緩和政策を開始しました。財政面から見ると、この政策には、大量の国債を日銀が買い取ることによって、国債価

格を安定させる効果がありました。当初月額 4000 億円で開始された長期国債の買入れですが、量的緩和停止後も買入れの増額は続き、月額 1.8 兆円にまで達しました。年額に換算すると 21.6 兆円、これは、当時、一般会計で新たに発行された国債の 7 割に相当する額でした。

近年、安倍政権下の量的・質的緩和によって、さらに巨額の国債買入れが実施されています。国内に日銀という巨大な買い手がいる以上、国債価格の暴落、長期金利の上昇は簡単に起きません。借金は増えましたが、二十年近く、国債の価格は安定し続けたのです。政治家は増税の必要性を国民に訴える術を失いました。私たちも財政再建の必要性、危機感を共有できませんでした。増税への共感が高まらない限り、租税抵抗は緩和できません。

最後に、日本社会の閉塞状況に触れておきたいと思います。「政府はどうせムダ使いをする」「低所得者は生活保護を不正受給している」「高齢者は病気でもないのに病院に行く」私がこれまで散々聞いてきたこれらの批判は、つまるところ、日本人は、政府や人間を信用していないと表明しているに過ぎません。事実、いくつかの国際調査を見ますと、政府や人びとに対する日本人の信頼感は、先進国の底辺レベルにあります。目を覆いたくなるような現実です。

不信社会につきまとうのは租税への抵抗です。周りの人が脱税をしている、自分より負担が軽いと疑えば、税を払う意欲を失います。政府が税を正しく使っているという信頼がなければ、増税への反発は強まります。それ以前に、なぜ私たちは、疑わしい人のために、税を払わなければならないのでしょうか。租税抵抗がもたらしているのは、財政危機という数字上の危機ではなく、信頼と連帯の崩壊、すなわち社会の危機なのです。

財政を再建するためには、信頼に満ちた社会を取り戻さなければならない、これが私たちの出発点です。難しい課題ですが、ひとつだけ、はっきりしていることがあります。それは、私たちには「共通点」が必要だということです。自由の基礎として、誰もが同じような生活を営み、同じような将来の見通しを持ち、同じような道徳観を持てること、分かりやすく言えば、他者の生き方を理解し、共感できる環境を整えることこそが、信頼の形成には欠かせないのです。

痛税感、租税抵抗の弱い北欧諸国は、高い信頼感、健全な財政を誇る国でもあります。彼らは、経済成長の果実、豊かな税収を、住宅、医療、福祉、教育といった、国民誰もが必要とするサービスに充てました。成長率が低下し、税収が伸び悩んだ 70 年代、質の高いサービスに生活を守られた彼らは、それを維持するために、より高い税負担を受け入れました。

誰もが必要とするサービスを中間層にも、富裕層にも、等しく提供する、ここがカギです。生きること、暮らすことへの安心を誰もが分かち合いながら、価値観を共有できるからこそ、サービスの質を落とし、低所得層を切り捨てるのではなく、全員で税負担を高め、生活を守るという決断ができたのです。

大切なのは、人間が共感し合える社会のために、どういう財政を作ればよいのかを考えること、そしてそれが、財政再建への近道だということです。ムダを探す政治から、必要を探す政治へ。財政再建への道は、これまでの政治のあり方、社会のあり方を根本から見直す、絶好のチャンスと捉え直すべきかもしれません。

※富士見市ベビーシッター事件= 2014 年 3 月、22 歳のシングルマザーの女性が、インターネットを使って見つけたベビーシッターに 2 歳と 8 か月の 2 人の息子を泊まりがけで預けたところ、シッターと連絡がつかなくなり、2 歳の男児が遺体で見つかったという事件。